

مديرية التربية والتعليم لمنطقة معان
مدرسة معاذ بن جبل الاساسية للبنين
اختبار الشهر الثاني للفصل الدراسي الثاني لمادة الرياضيات

6th

اسم الطالب :

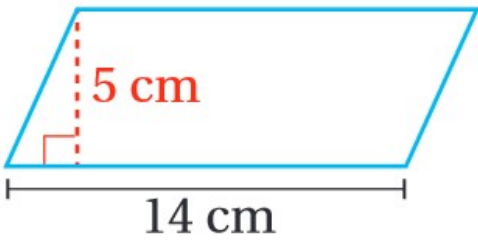
السؤال الاول : اكتب كل من النسب المئوية التالية على صورة كسر عادي بأبسط صورة ثم على صورة كسر عشري :
(4 علامات)

النسبة المئوية	الكسر العادي	الكسر العشري
55%		
79%		

السؤال الثاني : اعلن محل للمفروشات عن خصومات بنسبة 15% ، جد سعر غرفة جلوس بعد الخصم اذا علمت ان ثمنها قبل الخصم 900 دينار
(4 علامات)

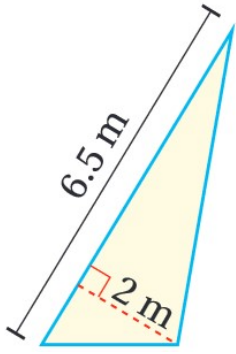
(4 علامات)

السؤال الثالث : جد مساحة متوازي الاضلاع في الشكل المجاور



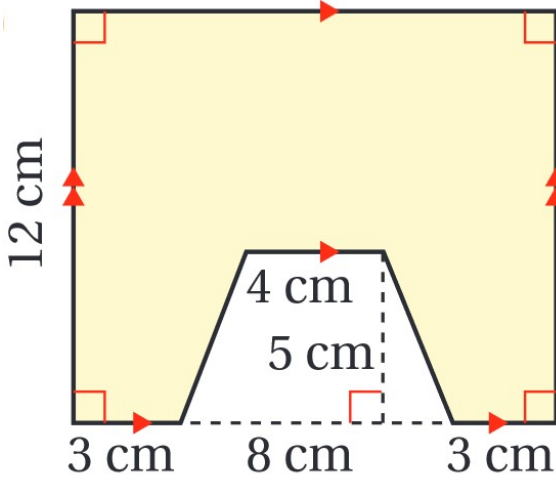
السؤال الرابع : جد مساحة المثلث المجاور .

(4 علامات)



السؤال الخامس : جد مساحة الشكل المجاور .

(4 علامات)



مع تمنياتي لكم بالتوفيق والنجاح الدائم

احمد فضيل فرخ